

## Matematika II – přednáška 4

### Co bude dneska?

Rovnice tečné roviny a normály. Diferenciál funkce více proměnných.

Přibližný výpočet hodnoty funkce pomocí diferenciálu a/nebo tečné roviny.

Derivace ve směru. (tj. i jiný směr než jen ve směru os).

P.S.: Nějaké příklady.

Tyto slidy jsou na adrese

<http://marian.fsik.cvut.cz/~valasek/teaching.php>

Slidy nenahrazují skripta ani zápisky ani účast na přednášce a jsou pouze pro osobní potřeby.

## Tečná rovina ke grafu funkce dvou proměnných

Shrnutí: Rovina  $y = L(X)$ , kde

$$L(X) = f(A) + k_1 \cdot (x_1 - a_1) + k_2 \cdot (x_2 - a_2)$$

splňuje požadavky a), b) a c) a můžeme ji tudíž nazvat tečnou rovinou k ploše  $\sigma$  v bodě  $P$ , jestliže je splněna podmínka

$$\lim_{X \rightarrow A} \frac{f(X) - L(X)}{\|X - A\|} = 0.$$

**Definice (tečná rovina).** Předpokládejme, že funkce  $y = f(x_1, x_2)$ , dvou proměnných, je diferencovatelná v bodě  $A = [a_1, a_2] \in \mathbb{E}_2$ . *Tečnou rovinou* ke grafu funkce  $f$  v bodě  $P = [A, f(A)] \in \mathbb{E}_3$  nazýváme rovinu o rovnici

$$y = f(A) + \frac{\partial f}{\partial x_1}(A) \cdot (x_1 - a_1) + \frac{\partial f}{\partial x_2}(A) \cdot (x_2 - a_2).$$

## Tečná rovina ke grafu funkce dvou či více proměnných

**Definice (tečná rovina).** Předpokládejme, že funkce  $y = f(x_1, x_2)$ , dvou proměnných, je diferencovatelná v bodě  $A = [a_1, a_2] \in \mathbb{E}_2$ . *Tečnou rovinou* ke grafu funkce  $f$  v bodě  $P = [A, f(A)] \in \mathbb{E}_3$  nazýváme rovinu o rovnici

$$y = f(A) + \frac{\partial f}{\partial x_1}(A) \cdot (x_1 - a_1) + \frac{\partial f}{\partial x_2}(A) \cdot (x_2 - a_2).$$

Definici můžeme snadno zobecnit pro funkci  $n$  proměnných:

Předpokládejme, že funkce  $y = f(x_1, \dots, x_n)$ ,  $n$  proměnných, je diferencovatelná v bodě  $A = [a_1, \dots, a_n] \in \mathbb{E}_n$ . *Tečnou rovinou* ke grafu funkce  $f$  v bodě  $P = [A, f(A)] \in \mathbb{E}_{n+1}$  nazýváme množinu bodů v  $\mathbb{E}_{n+1}$ , vyhovujících rovnici

$$y = f(A) + \frac{\partial f}{\partial x_1}(A) \cdot (x_1 - a_1) + \dots + \frac{\partial f}{\partial x_n}(A) \cdot (x_n - a_n).$$

Někdy hovoříme o tečné nadrovině. (Je to v  $\mathbb{E}_{n+1}$ ). Příklad.

## Normála ke grafu funkce dvou proměnných

**Definice (normála).** Předpokládejme, že funkce  $y = f(x_1, x_2)$  je diferencovatelná v bodě  $A = [a_1, a_2] \in \mathbb{E}_2$ . *Normálou* grafu funkce  $f$  v bodě  $P = [A, f(A)] \in \mathbb{E}_3$  nazýváme přímkou v  $\mathbb{E}_3$ , která prochází bodem  $P$  a je v tomto bodě kolmá k tečné rovině. Směrovým vektorem normály je vektor

$$\mathbf{n} = \left( \frac{\partial f}{\partial x_1}(A), \frac{\partial f}{\partial x_2}(A), -1 \right).$$

Parametrické rovnice normály jsou

$$x_1 = a_1 + t \frac{\partial f}{\partial x_1}(A), \quad x_2 = a_2 + t \frac{\partial f}{\partial x_2}(A), \quad y = f(A) - t; \quad t \in \mathbb{R}.$$

## Diferenciál funkce.

Chci nahradit funkci  $n$ -proměnných lineární funkcí (u funkce 2 proměnných plochou). Nejlepší aproximací je zřejmě ta jejímž grafem je tečná rovina.

Pro  $X = [x_1, \dots, x_n]$  "blízko"  $A$  tedy přibližně platí (pro  $n = 2$ )

$$L(X) = f(A) + k_1 \cdot (x_1 - a_1) + k_2 \cdot (x_2 - a_2).$$

toto lze přibližně zapsat jako  $f(X) \doteq f(A) + df$ , kde

$$df = k_1 \cdot (x_1 - a_1) + k_2 \cdot (x_2 - a_2).$$

Jak konkrétně vypočítat hodnotu  $k_i$  bude příště.

**Diferenciál funkce.**

Měli jsme

$$f(X) \doteq f(A) + df,$$

kde

$$df = \frac{\partial f}{\partial x_1}(A) \cdot (x_1 - a_1) + \frac{\partial f}{\partial x_2}(A) \cdot (x_2 - a_2).$$

Příklad.

## Derivace ve směru

Připomenutí, gradient funkce  $f$  v bodě  $A \in D(f) \subseteq (\in \mathbb{E}_n)$  je vektor

$$\text{grad } f(A) = \left( \frac{\partial f}{\partial x_1}(A), \dots, \frac{\partial f}{\partial x_n}(A) \right).$$

Parciální derivace říkají, jak rychle se funkce mění v bodu  $A$ , když jím nějaký proměnný bod  $X$  prochází ve směru shodným s orientací osy  $x_i$ .

Nyní nás bude zajímat změna hodnoty  $f(X)$ , když bude bod  $X$  procházet bodem  $A$  nějakým jiným (obecným) směrem.

**Definice (derivace ve směru).** Předpokládejme, že  $f$  je funkce  $n$ -proměnných,  $A \in D(f)$  a  $\mathbf{u}^0$  je jednotkový vektor v  $\mathbb{E}_n$ . Existuje-li konečná limita

$$\lim_{h \rightarrow 0} \frac{f(A + h\mathbf{u}^0) - f(A)}{h},$$

pak její hodnotu nazýváme *derivací funkce  $f$  ve směru  $\mathbf{u}^0$  v bodě  $A$  (nebo také směrovou derivací  $f$  v bodě  $A$  podle  $\mathbf{u}^0$ )* a označujeme ji

$$\frac{\partial f}{\partial \mathbf{u}^0}(A).$$

Není nutné omezovat se na směry definované jednotkovým vektorem. Je-li  $\mathbf{u}$  nenulový vektor v  $\mathbb{E}_n$ , pak jednotkový vektor ve směru  $\mathbf{u}$  dostaneme jako  $\mathbf{u}^0 = \mathbf{u}/\|\mathbf{u}\|$ .

Derivaci  $f$  v bodě  $A$  ve směru  $\mathbf{u}$  definujeme rovností

$$\frac{\partial f}{\partial \mathbf{u}}(A) = \frac{\partial f}{\partial \mathbf{u}^0}(A).$$



## Výpočet derivace funkce $f$ ve směru $\mathbf{u}$

Je-li  $f$  diferencovatelná funkce v bodě  $A$  a  $\mathbf{u} = (u_1, \dots, u_n)$  je nenulový vektor v  $\mathbb{E}_n$ , derivace funkce  $f$  ve směru  $\mathbf{u}$  v bodě  $A$  existuje a

$$\frac{\partial f}{\partial \mathbf{u}}(A) = \frac{1}{\|\mathbf{u}\|} \cdot \left( \frac{\partial f}{\partial x_1}(A) \cdot u_1 + \dots + \frac{\partial f}{\partial x_n}(A) \cdot u_n \right).$$

Tento vzorec lze přepsat jako

**Věta.** Předpokládejme, že funkce  $f$  ( $n$  proměnných) je diferencovatelná v bodě  $A \in \mathbb{E}_n$ . Předpokládejme dále, že  $\mathbf{u}$  je nenulový vektor v  $\mathbb{E}_n$ . Pak derivace funkce  $f$  v bodě  $A$  ve směru  $\mathbf{u}$  existuje a je možné ji vypočítat pomocí formule

$$\frac{\partial f}{\partial \mathbf{u}}(A) = \frac{\text{grad } f(A) \cdot \mathbf{u}}{\|\mathbf{u}\|} \quad \left( = \text{grad } f(A) \cdot \mathbf{u}^0, \quad \text{kde } \mathbf{u}^0 = \frac{\mathbf{u}}{\|\mathbf{u}\|} \right).$$

Příklady.

## Gradient a derivace ve směru

Je skutečně gradient směrem, ve kterém funkce nejrychleji roste?

Na tabuli.

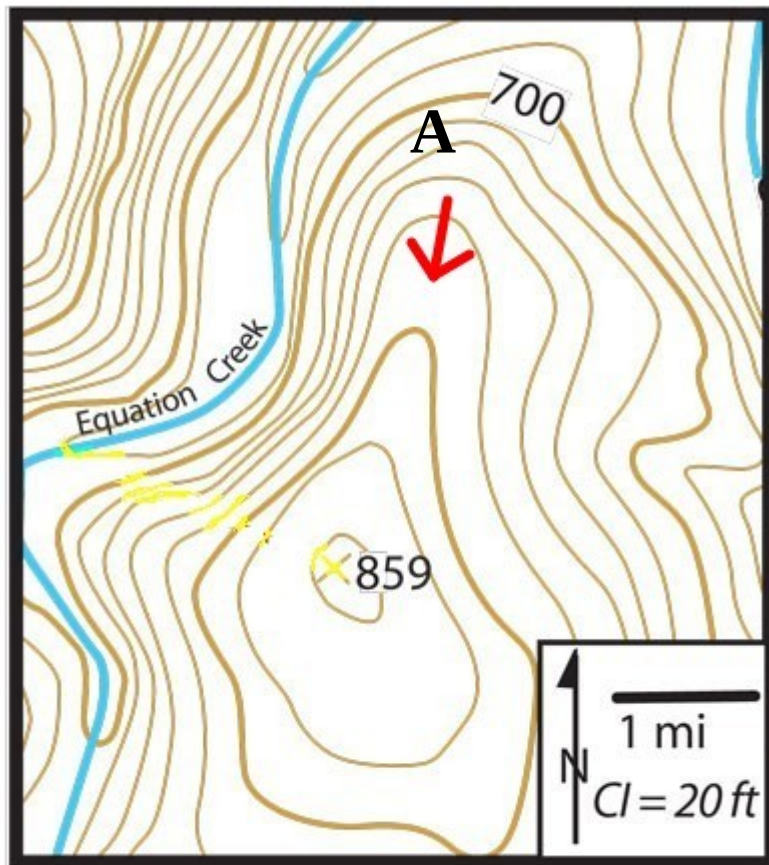
## **Gradient a derivace ve směru**

Je skutečně gradient směrem, ve kterém funkce nejrychleji roste?

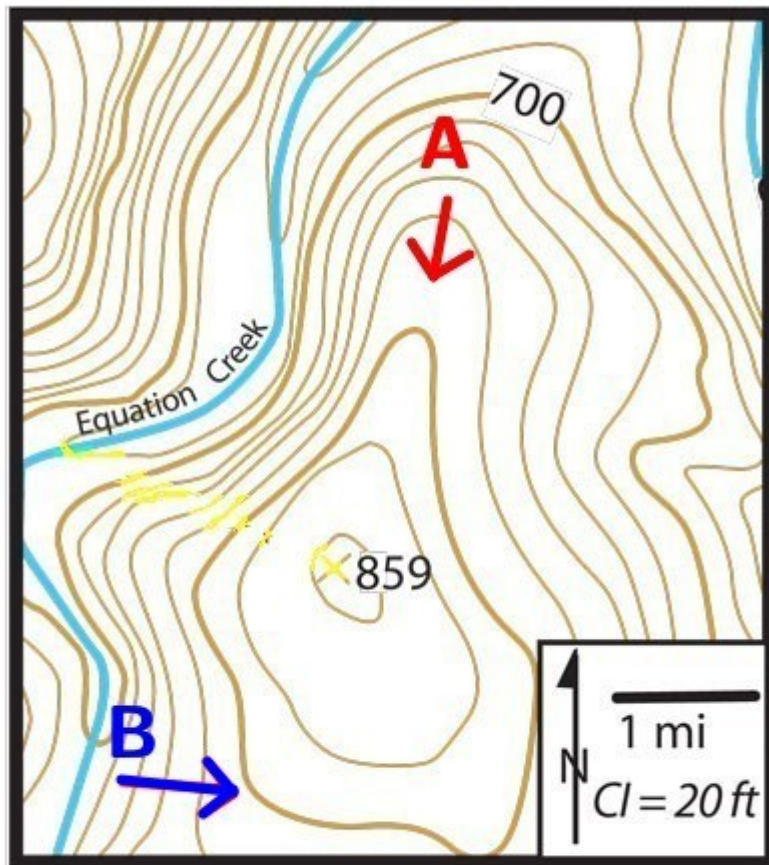
Na tabuli.

## **Tečna a normála k izokřivce, tečná rovina a normála k izoploše**

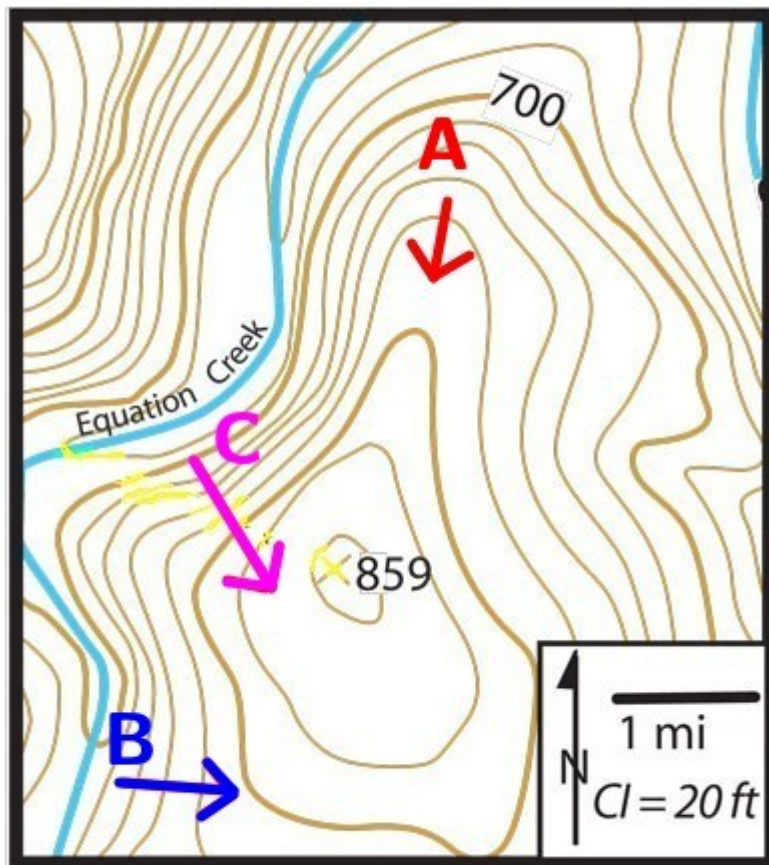
Na tabuli.



*Topographic Map of part Math State Park*



*Topographic Map of part Math State Park*



*Topographic Map of part Math State Park*

**Příklady (zkouškové)**

1. a) Napište (a zdůvodněte), ve kterých bodech  $[x, y] \in \mathbb{E}_2$  je funkce  $f(x, y) = \sqrt{x + y^2 - 4}$  diferencovatelná. Množinu těchto bodů načrtněte.
- b) Napište gradient a diferenciál funkce  $f$  v bodě  $A = [4, -2]$ .
- c) Pomocí diferenciálu nebo pomocí rovnice tečné roviny vypočítejte přibližnou hodnotu funkce  $f$  v bodě  $[4.2, -1.8]$ .
- d) Určete jednotkový vektor  $\vec{s}$ , v jehož směru funkce  $f$  v bodě  $A$  nejrychleji roste. Vypočítejte derivaci funkce  $f$  v bodě  $A$  v tomto směru.

**Příklady (zkouškové)**

2. a) Vyjádřete a načrtněte množinu, ve které je funkce funkce  $f(x, y) = \ln(9 - x^2 - y^2)$  diferencovatelná. Zdůvodněte !
- b) Určete gradient funkce  $f$  v bodě  $A = [1, -2]$ .
- c) Vypočítejte derivaci funkce  $f$  v bodě  $A = [1, -2]$  ve směru  $\vec{s} = (2, 1)$ . Udává tento vektor  $\vec{s}$  směr, ve kterém funkce  $f$  v bodě  $A$  nejrychleji klesá? Odpověď zdůvodněte!
- d) Napište rovnici izokřivky této funkce, tj. rovnici  $f(x, y) = k$  pro  $k = 0$  a izokřivku načrtněte.